




Ticket de Salida

Nombre: _____ Curso: _____

Hay 3 flores rojas y 2 flores blancas. ¿Cuántas flores hay en total?


$$\square + \square = \square$$



Respuesta: flores.

Hay 4 flores rojas y 2 flores blancas. ¿Cuántas flores hay en total?


$$\square + \square = \square$$



Respuesta: flores.

Hay 5 flores rojas y 2 flores blancas. ¿Cuántas flores hay en total?

$$\square + \square = \square$$



Respuesta: flores.



Señal Online www.ucv3.cl

Grupo de Estudio de Clases, Instituto de Matemáticas de la PUCV